



மாகாணக்கல்வித் திணைக்களம்



வடக்கு மாகாணம்

நிலையறி பரீட்சை – 2021

தரம் 7

வரலாறு

நேரம் -2 மணித்தியாலங்கள்

பகுதி 1

மிகப் பொருத்தமான விடையைத் தெரிவு செய்க.

1) உம்மக்க ஜாதக நூலில் சேனைப்பயிர்ச்செய்கையை குறிப்பதற்கு பயன்படுத்தப்பட்ட சொல்

1. பிட்டபிம் 2. சேன 3. நவதெளிசேனை 4. பரண்

2) சாலியகுமாரனின் தந்தை

1. காவந்திஸ்ஸன் 2. தேவநம்பியதீசன் 3. துட்டகைமுனு 4. பண்டுகாபயன்

3) தரப்பட்ட நாணயம் கண்டுபிடிக்கப்பட்ட பிரதேசம்



1. மட்டக்களப்பு 2. திருகோணமலை 3. அம்பாறை 4. மாத்தளை

4) மணிகர எனும் கலைஞர் மேற்கொண்ட கைத்தொழில்

1. புடவை 2. சீனி, கருப்பட்டி
3. ஆபரணக்கைத்தொழில் 4. ஓட்டுக்கைத்தொழில்

5) கொடவாய எனும் துறைமுகம்

1. மன்னார் 2. அம்பாந்தோட்டை 3. திருகோணமலை 4. கொழும்பு

6) இலங்கையில் கண்டெடுக்கப்பட்ட தரப்பட்ட மட்பாண்டமானது



1. பர்மாநாட்டுக்குரியது 2. சீனநாட்டுக்குரியது
3. தாய்லாந்து நாட்டுக்குரியது 4. கிரேக்கநாட்டுக்குரியது

7) அநுராதபுரகாலத்தில் இரண்டாம் காசியப்பன் ஆட்சி செய்த ஆண்டுகளின் எண்ணிக்கை

1. 9 வருடங்கள் 2. 12வருடங்கள் 3. 14 வருடங்கள் 4. 16 வருடங்கள்

8) முதலாம் சேனனின் ஆட்சியின் முற்பகுதியில் இலங்கையை ஆக்கிரமித்த தென்னிந்திய ஆட்சியாளர்

1. பாண்டியர் 2. பல்லவர் 3. சோழர் 4. சேரர்

9) பத்துகிராம நிர்வாகம் மற்றும் குற்ற வழக்குகளை தீர்க்க அதற்குரிய சட்டங்கள் பற்றி விபரிக்கும் கல்வெட்டு

1. கல்பொத்த கல்வெட்டு 2. பதுளை தூண் கல்வெட்டு
3. வெஹரகெம கல்வெட்டு 4. வேவல்கெட்டிய கல்வெட்டு

10) சோழர்களின் தலைநகர்

1. தஞ்சாவூர் 2. காஞ்சிபுரம் 3. மதுரை 4. திருநெல்வேலி

11) பல்லவர்கள் பலம் பொருந்திய ஆட்சியைக் கட்டியெழுப்பிய காலம்

1. கி.பி 5 ம் நூற்றாண்டில் இருந்து 7ம் நூற்றாண்டு வரை
2. கி.பி 7 ம் நூற்றாண்டில் இருந்து 9ம் நூற்றாண்டு வரை
3. கி.பி 8 ம் நூற்றாண்டில் இருந்து 10ம் நூற்றாண்டு வரை
4. கி.பி 9 ம் நூற்றாண்டில் இருந்து 12ம் நூற்றாண்டு வரை

12) கீர்த்தி எனும் இளமைப்பெயரைக் கொண்ட மன்னன்

1. மகாபராக்கிரமபாகு 2. முதலாம் விஜயபாகு
3. நிசங்கமல்லன் 4. துட்டகைமுனு

13) தம்புள்ளையில் காணப்படும் கலாசார மரபுரிமைகளில் ஒன்று


1.



2.



3.



4.



14) கி.பி 2011 ம் ஆண்டு யுனெஸ்கோ நிறுவனத்தால் உலக மரபுரிமையாக அடையாளம் காணப்பட்ட கலாசார மரபுரிமைகளின் எண்ணிக்கை

1. 567 2. 675 3. 604 4. 704

15) பழைய அநுராதபுரநகரம் உலக மரபுரிமைப்பட்டியலில் சேர்க்கப்பட்ட ஆண்டு

1. 1980 2. 1981 3. 1982 4. 1986

16) துட்டகைமுனு மன்னனால் கட்டப்பட்ட விகாரைகளில் ஒன்று

1. ஜேத்தவனராம 2. ருவான்வெலிசாய 3. கிரிவிகாரை 4. ரன்கொத்விகாரை

17) இராசரட்டை காலப்பகுதியில் நடைபெற்ற விழா

1. வெசாக் 2. நீர் விளையாட்டு விழா 3. ஏர்பூட்டு விழா 4. அனைத்தும்

18) கலிங்க மாகன் பொலநறுவையை கைப்பற்றிய ஆண்டு

1. கி.பி 1215 2. கி.பி 1234 3. கி.பி 1276 4. கி.பி 1315

19) யாப்பகுவ குன்றில் கோட்டை கட்டிய தளபதி

1. சுபதளபதி 2. சங்கதளபதி
3. குட்டதளபதி 4. புவனேகபாகு ஆதிபாதன்

20) 3ம் விஜயபாகு தம்பதெனியாவை ஆட்சி செய்த காலம்

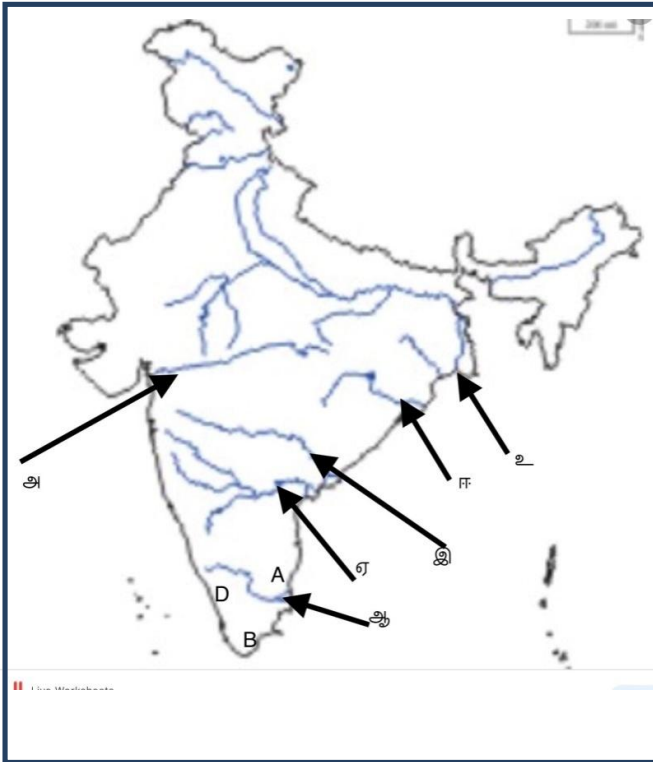
1. கி.பி 1230 -1237 2. கி.பி 1232 – 1236
3. கி.பி1234- 1238 4. கி.பி1243- 1247

20x2= 40 புள்ளிகள்

பகுதி11

முதலாம் வினா உட்பட ஐந்து வினாக்களுக்கு விடையளிக்க.

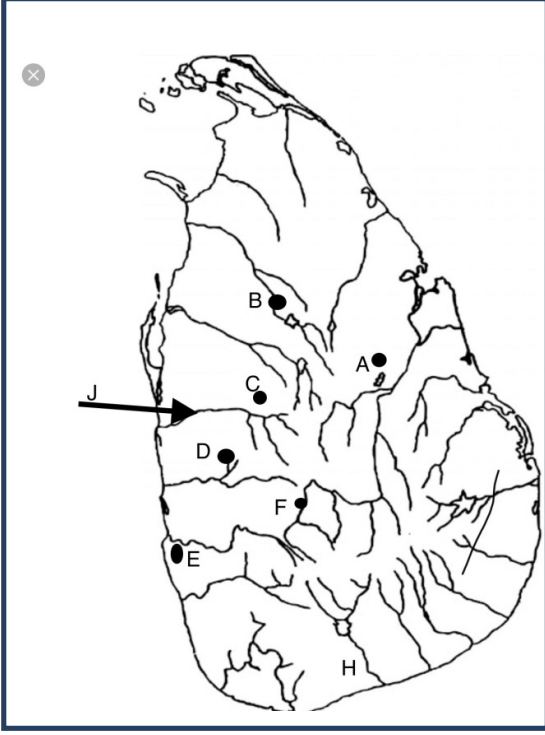
1) அ. தரப்பட்ட இந்திய புறவுருவப்படத்தை வைத்து விடையளிக்க.



1. ஆ எனக் குறிப்பிடப்பட்ட நதி.....
2. A ஆங்கில எழுத்து குறிக்கும் பிரதேசம்.
3. ஏ என்ற எழுத்துக் குறிக்கும் நதி.....
4. இ என்ற எழுத்துக் குறிக்கும் நதி.....
5. B ஆங்கில எழுத்து குறிக்கும் பிரதேசம்.
6. உ என்ற எழுத்துக் குறிக்கும் நதி.....

1x6= 6 புள்ளிகள்

ஆ. தரப்பட்ட இலங்கை புறவுருவப்படத்தை வைத்து விடையளிக்க



1. J என்ற ஆங்கில எழுத்துக் குறிக்கும் நதி
2. A என்ற ஆங்கில எழுத்துக் குறிக்கும் இராசதானி
3. H என்ற ஆங்கில எழுத்துக் குறிக்கும் நதி
4. E என்ற ஆங்கில எழுத்துக் குறிக்கும் இராசதானி
5. C என்ற ஆங்கில எழுத்துக் குறிக்கும் இராசதானி
6. B என்ற ஆங்கில எழுத்துக் குறிக்கும் இராசதானி

1x6= 6 புள்ளிகள்

- 2) 1. பயிர்ச்செய்கையின் இரு வகைகளையும் தருக? 2 புள்ளி
2. சேனைப்பயிர்ச்செய்கை தொடர்பாக பயன்படுத்தப்பட்ட சொற்பிரயோகங்கள் 2 தந்து அதன் பொருளையும் தருக? 4 புள்ளி
3. அ. பண்டையகாலம் தொட்டு வளர்க்கப்படும் விலங்குகள் 4 தருக? 2 புள்ளி
ஆ. பஞ்சரப்பொருட்களில் நான்கினைக் குறிப்பிடுக? 4 புள்ளி
- 3) 1. உலோகக் கைத்தொழில்கள் 2 தருக? 2 புள்ளி
2. களிமண் கைத்தொழிலில் ஈடுபடும் கைவினைஞர் எவ்வாறு அழைக்கப்படுவார்? அவரால் உற்பத்தி செய்யப்படும் பொருட்கள் 3 தருக? 4 புள்ளி
3. சந்தை ஒன்றின் நிர்வாகம் தொடர்பாக பதுளை தூண்கல்வெட்டில் காணப்படும் சட்டதிட்டங்கள் 3 தருக? 6 புள்ளி
- 4) 1. அநுராதபுரக்காலத்தில் இந்நாட்டை நீண்ட காலம் ஆட்சி செய்த இரு வம்சங்களை குறிப்பிடுக? 2 புள்ளி
2. இரண்டாம் சேனன் மக்களுக்கு ஆற்றிய பணிகள் 4 தருக? 4 புள்ளி
3. a. அநுராதபுரக்காலத்தில் கடைப்பிடிக்கப்பட்டு வந்த அரசரிமை முறைகள் 2 தருக? 2 புள்ளி
b மன்னனுக்குரிய கடமைகள் 4 தருக? 4 புள்ளி

- 5) 1. முதலாம் விஜயபாகு மன்னனின் தாய், தந்தையின் பெயர்களைக் குறிப்பிடுக? 2 புள்ளி
2. முதலாம் விஜயபாகு மன்னனின் சமயப்பணிகள் 4 தருக? 4 புள்ளி
3. a மகாபராக்கிரமபாகு மன்னனின் பொருளாதார அபிவிருத்தி பணிகள் மூன்றினைக் குறிப்பிடுக 3 புள்ளி
- b. நிசங்கமல்ல மன்னன் எதிர் நோக்கிய சவால்கள் மூன்றினைத் தருக? 3 புள்ளி
- 6) 1. மரபுரிமைகளின் இரு வகைகளையும் தருக? 2 புள்ளி
2. இலங்கையில் யுனெஸ்கோ நிறுவனத்தால் ஏற்றுக்கொள்ளப்பட்ட மரபுரிமைகளில் நான்கினைத் தருக? 4 புள்ளி
3. a. எமது நாட்டின் பாரம்பரிய கலை நுட்பங்கள் 3 தருக? 3 புள்ளி
- b. எமது பண்பாட்டு பாரம்பரியங்களைப் பாதுகாப்பதன் முக்கியத்துவம் 3 தருக? 3 புள்ளி
- 7) 1. கலிங்கமாகன் தெற்கிற்கு வராமல் தடுப்பதற்காக கோட்டை கட்டி பாதுகாத்த தலைவர்கள் இருவரைக் குறிப்பிடுக? 2 புள்ளி
2. a. இரண்டாம் பராக்கிரமபாகு மேற்கொண்ட போர்கள் 2 தருக? 2 புள்ளி
- b. இரண்டாம் பராக்கிரமபாகுவின் பணிகள் 2 தருக? 2 புள்ளி
3. முதலாம் புவனேகபாகுவின் பணிகள் 3 தருக? 6 புள்ளி

